




CADERNO DE PROVA

-  08h às 11h 30 min
-  3h 30 min de duração*
-  40 questões

Agente de Serviços Gerais

Nome do candidato(a): _____

Assinatura: _____

Número do Documento de identificação: _____

Atenção

Confira o número que você obteve no ato da inscrição com o que está indicado no cartão-resposta.

* A duração da prova inclui o tempo para o preenchimento do cartão-resposta.

Instruções

Para fazer a prova você usará:

- este caderno de prova;
- um cartão-resposta que contém o seu nome, número de inscrição e espaço para assinatura.

Verifique, no caderno de prova, se:

- faltam folhas;
- a sequência de questões está correta;
- há imperfeições gráficas que possam causar dúvidas.

Comunique imediatamente ao fiscal qualquer irregularidade.

Informações importantes

- Não é permitido qualquer tipo de consulta durante a realização da prova.
- Para cada questão são apresentadas 5 (cinco) alternativas diferentes de respostas (a, b, c, d, e). Apenas uma delas deverá ser assinalada.
- A interpretação das questões é parte integrante da prova, não sendo permitidas perguntas aos fiscais.
- Não destaque folhas da prova.

Ao terminar a prova, **entregue ao fiscal o caderno de prova completo e o cartão-resposta** devidamente preenchido e assinado.

Conhecimentos Gerais

(20 questões)

Leia o texto abaixo para responder a questão número 1:

Governo de SC lança programa de incentivo à geração de energia limpa

O governo do estado lançou na tarde desta quarta-feira (24) um programa que tem como objetivo estimular a geração de energia limpa. A meta é passar de 880 MWh para 1 mil MWh, com a implantação de opções alternativas de energia, como a eólica e a solar.

O SC+Energia foi lançado a partir das 14h no Teatro Pedro Ivo, em Florianópolis. **Durante o evento**, o governador Raimundo Colombo destacou os diferenciais competitivos do estado. "Santa Catarina tem vantagens estratégicas que nos permitem enfrentar o momento difícil do país".

Segundo o vice-governador, Eduardo Pinho Moreira, entre as alternativas de energia limpa que podem ser incentivadas no estado está a energia gerada pela biomassa. "Somos os maiores produtores de suínos do Brasil, utilizar os dejetos de forma sustentável é exemplo para o país", ressaltou.

O programa tem como objetivo trabalhar o desenvolvimento, com sustentabilidade ambiental, segundo o governo. "Serão investidos R\$5 bi, com geração de 1000 MWh e empregos, movimentando a economia com qualidade de vida e sustentabilidade", ressaltou o secretário de Desenvolvimento Sustentável (SDS), Carlos Chiodini.

O programa é coordenado pela SDS e conta com o apoio de diferentes órgãos e instituições que atuam no estado. Para as empresas que participarem do programa, o governo prevê benefícios, como isenção do ICMS até 2021. Para isso, serão lançadas chamadas públicas. "O empreendimento será avaliado por este comitê e, sendo aprovado, ele ingressa no

programa, passando a contar com uma série de benefícios", informou o governo.

Geração de energia em SC

De acordo com as Centrais Elétricas de Santa Catarina (Celesc), no primeiro trimestre de 2015, o estado consumiu 6.195 gigawatts (GWh) de energia. O que representa em média 2.065 GWh por mês. As instalações comerciais correspondem a 32,6% deste gasto, a indústria, 22,4%, e o comércio, 21,8%.

Atualmente, a energia **limpa** gerada em Santa Catarina corresponde a 19,5% do total. "Há 74 Pequenas Centrais Hidrelétricas (PCHs) que geram 560 MW, no caso, 12,35% de energia no Estado. Outros tipos de energias limpas são a eólica, que geram 242 MW, e a solar, com apenas 4,2 MW. Ainda em Santa Catarina, há 114 Centrais Geradoras Hidrelétricas (CGHs) que operam 77 MW. Nove PCHs estão em construção e irão fornecer mais 52,2 MW", informou o governo do estado.

Fonte: Disponível em:

<<http://g1.globo.com/sc/santa-catarina/noticia/2015/06/governo-de-sc-lanca-programa-de-incentivo-geracao-de-energia-limpa.html>>. Acesso em: 24 jun. 2015.

- 1- Considere as seguintes afirmações:
- I - O texto lido é uma notícia.
 - II- A palavra "limpa", destacada no texto, é uma característica de energia.
 - III - A expressão "Durante o evento", destacada no texto, dá ideia de lugar.
- Qual(is) afirmação(ões) está(ão) correta(s)?
- A. Somente a II.
 - B. Somente a I.
 - C. Somente a III
 - D. Afirmações I e II
 - E. Nenhuma das alternativas.

Leia os textos que seguem para responder a questão 2:

A - Vende-se móvel

Baú, de madeira, com fechadura e duas alças que possibilitam um transporte. Medidas: 1,20 m de comprimento e 60 cm de altura. Peça que pertenceu a uma família da nobreza. Ligar para: 100-1010.

B - Vende-se móvel antigo

Baú entalhado, de madeira maciça, com fechadura reforçada e duas largas alças douradas que possibilitam um fácil transporte. Medidas: 1,20 m de comprimento e 60 cm de altura. Peça que pertenceu a uma família da nobreza portuguesa. Ligar para: 100-1010.

2- Em qual dos anúncios publicitários conseguimos visualizar melhor o baú?

- A. No anúncio B, porque o texto não apresenta nenhuma característica.
- B. No anúncio A, porque é um texto mais rico em características do que o texto B.
- C. No anúncio A, porque é um texto objetivo.
- D. No anúncio B, porque possui mais características, definindo melhor e de forma mais específica as características do móvel a ser vendido.
- E. Nenhuma das alternativas.

3- Na frase “Banco **algum** estava preocupado em agradecer clientes.”, a palavra destacada corresponde a:

- A. um entre dois;
- B. qualquer;
- C. um certo;
- D. determinado;
- E. nenhum.

Leia a tira que segue para responder a questão 4:



Fonte: Disponível em: <<http://fotografia.folha.uol.com.br/galerias/27431-tiras-de-armandinho>>. Acesso em: 24 jun. 2015.

Ampliação do texto da tirinha

Quadro 1: “Produto interno bruto”

Quadro 2: “Renda per capta?”

Quadro 3: “Distribuição de renda”

Observações sobre as imagens da tira:

No primeiro quadro, tem-se a imagem de saco com maçãs dentro.

No segundo quadro, em frente a cada criança, tem-se um punhado de maçãs.

No terceiro quadro, em frente a cada criança parada, tem-se um pedaço de maçã e uma criança andando com um saco cheio.

4- A tira faz uma crítica a que problema social?

- A. Ao cálculo incorreto da produção do Produto Interno Bruto (PIB).
- B. A desigualdade social referente ao PIB.
- C. A desigualdade social referente a divisão da Renda Per Capita.
- D. Ao egoísmo presente nos relacionamentos.
- E. Nenhuma das alternativas.

Leia a tira que segue para responder a questão 5:



Fonte: Disponível em: <<http://fotografia.folha.uol.com.br/galerias/27431-tiras-de-armandinho>>. Acesso em: 24 jun. 2015.

Ampliação do texto da tirinha

Quadro 1: “Às vezes...”

Quadro 2: “...o melhor presente...”

Quadro 3: “...é estar presente”

5- Considere as afirmativas:

I – Às vezes é uma expressão utilizada com ideia de possibilidade.

II – Às vezes é uma expressão utilizada com ideia de tempo.

III - Presente está nomeando algo no 2º quadrinho.

IV - Presente está nomeando algo no 3º quadrinho.

Assinale a alternativa que possui as afirmações corretas em relação a tira:

- A. II e IV.
- B. I e II.
- C. I e IV.
- D. II e III.
- E. Nenhuma das alternativas.

Leia o poema “Do amoroso esquecido” abaixo para responder a questão 6:

Do amoroso esquecido

Mário Quintana

Eu agora - que desfecho! / Já nem penso mais em ti... / Mas será que nunca deixo / De lembrar que te esqueci?

Fonte: Disponível em:

<<http://kdfrases.com/autor/mario-quintana>>.

Acesso em: 24 jun. 2015.

6- Assinale a alternativa correta:

- A. O poema não expressa nenhum sentido.
- B. É uma pessoa que está realizada com o amor.
- C. É uma pessoa que está realizada com o sucesso profissional.
- D. É uma pessoa que está desolada com o amor.
- E. Nenhuma das alternativas.

Leia a fábula “A Lebre e a tartaruga de Esopo” para responder a questão 7:

A lebre e a tartaruga

Era uma vez... uma lebre e uma tartaruga. A lebre vivia caçoando da lerdeza da tartaruga. Certa vez, a tartaruga já muito cansada por ser alvo de gozações, desafiou a lebre para uma corrida.

A lebre muito segura de si, aceitou prontamente. Não perdendo tempo, a tartaruga pôs se a caminhar, com seus passinhos lentos, porém, firmes.

Logo a lebre ultrapassou a adversária, e vendo que ganharia fácil, parou e resolveu cochilar. Quando acordou, não viu a tartaruga e começou a correr.

Já na reta final, viu finalmente a sua adversária cruzando a linha de chegada, toda sorridente.

Moral da história: Devagar se vai ao longe!

Fonte: Disponível em: <http://sitededicadas.ne10.uol.com.br/fabula_lebre_tartaruga.htm>. Acesso em: 24 jun. 2015.

7- Qual é a alternativa correta em relação ao texto?

- A. A fábula é um texto que os personagens são animais com atitudes humanas.
- B. A fábula possui só moral e não conta nenhuma história.
- C. A história aconteceu no futuro.
- D. O personagem é o narrador da história.
- E. Nenhuma das alternativas.

8- Leia o seguinte ditado popular: “**Quem vai à feira, perde a cadeira.**” Em relação ao ditado, podemos afirmar como correto:

- A. Significa que as coisas são substituíveis.
- B. Significa fazer algo difícil.
- C. Significa fazer algo fácil.
- D. Significa que devemos ter persistência.
- E. Nenhuma das alternativas.

Leia o seguinte texto para responder a questão 9:

Bolo de chocolate

Massa:

- 6 ovos
- 6 colheres (sopa) de açúcar
- 6 colheres (sopa) de chocolate em pó
- 6 colheres (sopa) de margarina
- 100 g de coco ralado
- 2 colheres (sopa) de fermento em pó

Cobertura:

- 1 lata de leite condensado
- 1 lata de leite (a mesma medida do leite condensado)
- 1 colher de margarina
- 6 colheres de chocolate em pó

Modo de Preparo

Massa:

1. Bata todos os ingredientes no liquidificador.
2. Coloque a massa em forma untada com margarina e farinha de trigo.
3. Asse em forno médio, pré-aquecido, por cerca de 40 minutos, ou até dourar.

9- Assinale a frase que está correta:

- A. A receita é um texto que conta uma história.
- B. A receita é um texto com instruções.
- C. A receita é composta basicamente de duas partes, ingredientes e modo de fazer.
- D. A receita é um texto que mostra uma opinião.
- E. Nenhuma das alternativas.

Leia o poema “Arte de amar” abaixo para responder a questão 10:

Arte de amar

Manuel

Bandeira

Se queres sentir a felicidade de amar, esquece a tua alma. A alma é que estraga o amor. Só em

Deus ela pode encontrar satisfação. Não noutra alma. Só em Deus - ou fora do mundo. As almas são incomunicáveis. Deixa o teu corpo entender-se com outro corpo. Porque os corpos se entendem, mas as almas não.

Fonte: Disponível em:
<<http://pensador.uol.com.br/frase/NTcyODI>>.
Acesso em: 24 jun. 2015.

10- O termo “ela” no texto refere-se:

- A. A uma mulher.
- B. A alma.
- C. A uma menina.
- D. A felicidade.
- E. Nenhuma das alternativas.

Observe e leia a imagem abaixo para responder a questão 11:



Fonte: Disponível em:

<<http://www.doeseulixo.org.br/ultimas-noticias/coleta-seletiva-em-nova-campanha-do-governo-federal/>>. Acesso em: 24 jun. 2015.

11- Assinale a alternativa correta:

- A. O texto não incentiva a cuidar da natureza.
- B. O texto quer mudar o comportamento das pessoas em relação a natureza.
- C. O texto acima utiliza frase sem nomes.
- D. O texto acima faz referência a um problema ambiental exclusivo de uma região.
- E. A palavra “te” não se refere ao interlocutor.

Leia a piada “Incômodo do Cigarro” abaixo para responder a questão 12:

Incômodo do Cigarro

Um homem se aproxima de um fumante e diz:

- O teu cigarro está me incomodando!

O fumante responde:

- Cara, ele está me matando e eu não estou reclamando.

12- Quantos personagens há no texto?

- A. Dois;
- B. Um;
- C. Três;
- D. Quatro;
- E. Nenhuma das alternativas.

Observe e leia o texto abaixo para responder a questão 13:



Fonte: Disponível em:

<<http://www.doeseulixo.org.br/ultimas-noticias/coleta-seletiva-em-nova-campanha-do-governo-federal/>>. Acesso em: 24 jun. 2015.

13- Assinale a alternativa correta.

- A. As palavras “Separe” e “Acerte” tem sentido de possibilidade.
- B. As palavras “Separe” e “Acerte” tem sentido de certeza.
- C. As palavras “Separe” e “Acerte” tem sentido de ordem.
- D. A palavra “e” dá ideia de contradição na frase.
- E. Nenhuma das alternativas.

Leia a tira que segue para responder a questão 14:



Fonte: Disponível em: <<http://blog.clickgratis.com.br/SOTIRINHAS/366352/mafalda-do-quino.html>>. Acesso em: 24 jun. 2015.

Ampliação do texto da tirinha

Quadro 1: “Vamos ver este novo livro de histórias”

Quadro 2: “Num país distante vivia um ogro que comia crianças.”

Quadro 3: “Droga!” “Sempre comem a gente!”

Quadro 4: “Até quando vamos ser os frangos da literatura?”

14- Considere a alternativa incorreta:

- A. A palavra “livro” está nomeando algo.
- B. A palavra “sempre” dá ideia de tempo.
- C. “Vivia” é uma palavra usada com ideia de que algo está acontecendo neste momento.
- D. Na frente da palavra “Vamos” poderíamos usar a palavra “Nós”.
- E. A palavra “Droga” está sendo empregada para expressar uma emoção da personagem.

Observe e leia o texto abaixo para responder a questão 15:



Fonte: Disponível em:
<<http://www.frasesparaface.com.br/o-que-e-bonito-me-encanta-mas-o-que-e-sincero/>>.
Acesso em: 24 jun. 2015.

15- Assinale a alternativa correta.

- A. A palavra “mas” dá ideia de troca.
- B. A palavra “mas” dá ideia de adição.
- C. A palavra “mas” dá ideia de oposição.
- D. A palavra “mas” dá ideia de exclusão.
- E. A palavra “mas” dá ideia de possibilidade.

Leia a fábula “A cigarra e a formiga de Esopo” para responder as questões 16 e 17:

A cigarra e a formiga

A Formiga vivia trabalhando, não tinha tempo para descansar, nem aproveitou a bela paisagem de verão, pois estava preocupada em fazer estoque de comida para o inverno.

Enquanto isso, a Cigarra cantava e aproveitava cada segundo para se divertir, tornando a vida mais alegre, esquecendo-se dos problemas e das responsabilidades.

A Formiga e a Cigarra nunca foram amigas. A Cigarra invejava a habilidade que a Formiga tinha para o trabalho, e a Formiga invejava a alegria e o bom humor da Cigarra.

Quando chegou o inverno, a Cigarra ainda não havia trabalhado e não tinha o que comer, nem onde ficar. Então procurou a ajuda da Formiga, pois estava com muito frio no meio de uma nevasca.

A Formiga estava preparada para o inverno e aceitou a Cigarra em sua casa. As duas tiveram uma longa conversa dentro daquela aconchegante casinha...

A Cigarra disse:

– Obrigada Formiga! Fico feliz por você ter me acolhido!

E a Formiga respondeu:

– Fico feliz em te ajudar. Mas por que você não trabalhou, preparando-se para o inverno?

A Cigarra surpreendendo-se, disse:

– Eu não tenho habilidade para o trabalho. Mas depois do que aconteceu, quero que você me

ensine a trabalhar. E eu posso te ensinar a aproveitar mais a vida, ser mais feliz, cantar e dançar...

A Formiga ficou pasma, porém pensando melhor, resolveu aceitar a proposta da Cigarra.

Assim, a Cigarra e a Formiga se tornaram grandes amigas, felizes e trabalhadoras.

16- Qual a moral da fábula “A cigarra e a formiga”:

- A. Devemos cumprir com nossas responsabilidades;
- B. Devemos aproveitar para nos divertir;
- C. Devemos confiar em nossos amigos;
- D. Devemos sempre pedir ajuda aos outros;
- E. Nenhuma das alternativas.

17- Considere as afirmativas:

I - A formiga e a Cigarra estavam preparadas para o inverno.

II - A formiga trabalhava bastante na história.

III - Quando chegou o inverno, a cigarra havia trabalhado.

IV - A fábula “A cigarra e a formiga” é uma história em que o narrador só relata uma história, não sendo um personagem.

Quais afirmativas são corretas:

- A. I e V;
- B. I e II;
- C. II e III;
- D. IV e V;
- E. II e IV;

Leia o anúncio para auxiliar de limpeza abaixo para responder a questão 18.

Irá executar trabalhos rotineiros de limpeza em geral, espanando, varrendo, lavando ou encerando as dependências, móveis, utensílios e instalações da empresa, para manter as condições de higiene e conservá-los. Recolher o lixo da empresa. Horário de segunda a sexta das 7h15 as 17h15.

Fonte: Disponível em:
<<http://empregocerto.uol.com.br/vagas/auxiliar->

de-limpeza-belo-horizonte-mg-2676729.html>.
Acesso em: 24 jun. 2015.

E. Nenhuma das alternativas.

18- Assinale a alternativa incorreta:

- A. É diurna a atividade executada pelo auxiliar de limpeza.
- B. No contexto, a palavra “dependências” tem sentido de subordinação.
- C. Este anúncio foi retirado do site “uol”.
- D. A palavra “rotineiros”, no contexto, tem significado de habitual.
- E. Nenhuma das alternativas.

Leia o poema de Mário Quintana abaixo para responder a questão 19.

Se tu me amas, ama-me **baixinho**/ Não o grites de cima dos telhados/ Deixa em paz os **passarinhos**/ Deixa em paz a mim! / Se me queres, enfim, tem de ser bem **devagarinho**, Amada, que a vida é breve e o amor mais breve ainda.

Fonte: Disponível em:
<<http://pensador.uol.com.br/frase/MzQ3/>>.
Acesso em: 24 jun. 2015.

19- Assinale a afirmação correta:

- A. O diminutivo “baixinho” é utilizado no sentido pejorativo.
- B. O diminutivo “passarinhos” é utilizado com sentido de carinho.
- C. O diminutivo “devagarinho” é usado com ideia de intensidade.
- D. O diminutivo “devagarinho” é usado com ideia de coisa pequena.
- E. Nenhuma das alternativas.

20- Interprete o dito popular: “Se dinheiro falasse, o meu diria tchau.”

- A. Este provérbio representa uma pessoa poupadora.
- B. Este provérbio não faz relação com dinheiro.
- C. Este provérbio representa alguém que logo que recebe já acaba seu dinheiro.
- D. Este provérbio representa alguém que quer economizar.

Conhecimentos Específicos

(20 questões)

- 21- A atividade profissional que Pedro desenvolve exige segundo a norma de segurança no trabalho, conforme orientação do Técnico em Segurança do Trabalho, o uso de botas e luvas de borracha. Assinale qual das alternativas abaixo descreve a situação em que Pedro poderá exercer sua função de forma adequada.
- A. Realizar a função usando apenas a botas de borracha.
 - B. Realizar a função usando apenas a luvas de borracha.
 - C. Realizar a função usando botas e luvas de couro.
 - D. Realizar a função usando botas de borracha e luva de couro.
 - E. Realizar a função usando botas e luvas de borracha.
- 22- Tiago foi orientado pelo Serviço Especializado em Engenharia de Segurança e Medicina do Trabalho (SESMT) atuante na empresa em que trabalha a realizar suas funções somente após preencher uma análise preliminar de riscos. Qual das alternativas descreve uma situação em que Tiago poderá exercer de forma correta seu trabalho?
- A. Ignorar a realização da análise preliminar de risco se o serviço for urgente.
 - B. Realizar a análise preliminar de riscos antes de executar qualquer atividade, conforme orientação.
 - C. Realizar análise preliminar de risco sempre que estiver sobre supervisão.
 - D. Realizar análise preliminar de risco apenas quando a atividade a ser executada ofereça riscos conhecidos.
 - E. Ignorar a realização da análise preliminar de risco caso o Coordenador de setor fizer a solicitação.
- 23- Sara desenvolve suas atividades laborais segundo as normas de segurança e zela pelo uso dos EPI's. Qual das alternativas abaixo descreve o significado da sigla EPI, segundo as normativas de saúde e segurança no trabalho?
- A. Equipamento Para Imprevistos.
 - B. Equipamento Produtivo Interno.
 - C. Equipamento de Proteção Individual.
 - D. Equipamento de Proteção Indispensável.
 - E. Equipamento de Proteção Indissociável.
- 24- Matheus trabalha com um equipamento para lavar calçadas que gera ruído excessivo, que sem a proteção adequada iriam gerar prejuízos a sua saúde. O SESMT da empresa em que Matheus trabalha ofereceu a ele protetores auriculares adequados para o uso durante a realização do trabalho. Dentre as alternativas abaixo escolha aquela que não reflete uma ação correta de Matheus em relação ao equipamento recebido.
- A. Usar o Protetor Auricular apenas para o fim ao qual ele se destina.
 - B. Fazer uso do Protetor durante todo o período de execução do serviço que gera risco a sua audição.
 - C. Zelar pela guarda do protetor auricular.
 - D. Guardar o protetor auricular em contato com ferramentas, fora da caixa de proteção e exposto à sujeira.
 - E. Responsabilizar-se pelo correto manuseio e limpeza do protetor auricular recebido.
- 25- A normativa RDC número 306 de 7 de Dezembro de 2004, dispõe sobre o Regulamento Técnico para o gerenciamento de resíduos de serviços de saúde. Tal resolução descreve a forma correta de acondicionamento para resíduos sólidos. Qual das alternativas abaixo não descreve

uma das determinações desta normativa em relação ao acondicionamento de resíduos sólidos?

- A. Os sacos destinados a acondicionar os resíduos sólidos devem estar contidos em recipiente de material lavável.
- B. Sacos destinados ao acondicionamento de resíduos sólidos não podem ser reaproveitados.
- C. Sacos destinados ao acondicionamento de resíduos sólidos não precisam atender às especificações, podendo inclusive ser reaproveitados para outros fins após o seu uso.
- D. Os resíduos sólidos devem ser acondicionados em saco constituído de material resistente a ruptura e vazamento, impermeável, baseado na NBR 9191/2000 da Associação Brasileira de Normas Técnicas (ABNT).
- E. A capacidade dos recipientes de acondicionamento deve ser compatível com a geração diária de cada tipo de resíduo.

26- Dentre as alternativas abaixo, qual não está em conformidade com uma das etapas descritas pela normativa RDC nº 306/2004, a respeito ao gerenciamento de resíduos sólidos.

- A. Homogeneização de resíduos de naturezas diferentes.
- B. Acondicionamento dos resíduos.
- C. Segregação dos resíduos.
- D. Manejo dos resíduos.
- E. Identificação dos resíduos.

27- A identificação dos resíduos sólidos segundo a normativa RDC no 306/2004, deve ser realizada nos recipientes e sacos de acondicionamento dos resíduos de forma indelével. Qual das alternativas abaixo reflete de forma correta o significado de uma identificação indelével.

- A. Identificação que se apaga com o tempo.
- B. Identificação com cores chamativas.

C. Identificação que não pode ser apagada.

D. Identificação em vários idiomas.

E. Identificação em letras com fontes superiores a 15.

28- A normativa RDC nº 306/2004, versa a respeito da segregação dos resíduos sólidos. A norma descreve critérios que devem nortear este processo de separação dos resíduos segundo suas características, qual das alternativas abaixo não representa um desses critérios?

- A. Características físicas.
- B. Características químicas.
- C. Características biológicas.
- D. Risco envolvido.
- E. Cor do resíduo.

29- São diversas as formas com as quais os alimentos podem sofrer contaminação, a contaminação biológica dos alimentos infelizmente é uma das mais frequentes. Dentre as alternativas abaixo escolha aquela que contribui para minimizar o risco de contaminação biológica dos alimentos.

- A. Hábitos de higiene pessoal inadequados.
- B. Alimentos crus e cozidos acondicionados sem separação.
- C. Higiene na área de manipulação de alimentos inadequada.
- D. Armazenamento de alimentos em temperatura adequada.
- E. Temperatura inadequada a conservação dos produtos alimentícios.

30- As mãos de quem manipula alimentos é um dos principais meios de contaminação. Qual das situações abaixo não descreve uma situação em que o manipulador de alimentos deve realizar a correta higienização das mãos?

- A. Durante o preparo de um mesmo alimento, iniciado com a devida higienização.
- B. Após a manipulação de alimentos crus.

- C. Antes de iniciar a manipulação de alimentos.
 - D. Antes de manipular alimentos prontos para o consumo.
 - E. Sempre que mude de tarefa ou preparação.
- 31- No processo de higienização das mãos do manipulador de alimentos deve ser realizado com extremo asseio. Qual das alternativas abaixo descreve um equipamento essencial para realizar a higienização de forma adequada pelo manipulador de alimentos?
- A. Autoclave.
 - B. Estufa para esterilização.
 - C. Sabonete hidratante em barra.
 - D. Escova adequada mantida limpa e seca entre as utilizações.
 - E. Toalha de pano de uso coletivo.
- 32- No que se refere ao cuidado com a higiene das mãos, o manipulador de alimentos deve tomar uma série de cuidados. Qual das alternativas abaixo não reflete uma atitude correta em relação a higiene e cuidado das mãos de um manipulador de alimentos?
- A. Manter unhas curtas.
 - B. Manter unhas limpas.
 - C. Manter unhas sem verniz.
 - D. Manipular alimentos crus e cozidos sem higienizar as mãos.
 - E. Higienizar corretamente as mãos antes de colocar luvas descartáveis.
- 33- A Câmara de Vereadores está empenhada em reduzir o uso de folhas de papel, pois considera que o consumo deste recurso tem se tornado exagerado. Alice é funcionária da Câmara e portanto tem acesso a este recurso, que é um bem público. Qual das alternativas abaixo descreve uma atitude que Alice não deveria tomar, para contribuir com a campanha da Câmara e preservar os recursos públicos disponíveis.
- A. Imprimir somente material estritamente necessário.
 - B. Não utilizar folhas inteiras como rabiscos.
 - C. Intensificar o uso do correio eletrônico.
 - D. Preferir planilhas eletrônicas à controles impressos.
 - E. Imprimir material de uso particular na câmara de vereadores.
- 34- A Impessoalidade deve reger a conduta de todo o servidor público. Qual das alternativas abaixo não descreve uma ação pautada neste princípio fundamental?
- A. Tratar todo o cidadão com cortesia.
 - B. Atender ao cidadão por ordem de chegada, ou na existência de regra pré-estabelecida para casos especiais aplicá-la com correção.
 - C. Oferecer atendimento especial a amigos em detrimento dos outros cidadãos.
 - D. Ouvir com atenção à demanda de todos os cidadãos sem distinção.
 - E. Negar qualquer tipo de favorecimento pessoal relacionado ao exercício da função pública.
- 35- Assinale entre as alternativas abaixo, aquela que não constitui em um dever do servidor público que age com ética.
- A. Agir com lealdade.
 - B. Ressarcir ao erário público, perdas oriundas do erro de outros.
 - C. Demonstrar agilidade na prestação de contas relativas à sua atividade.
 - D. Agir com boa fé.
 - E. Ser justo e honesto no cumprimento de suas atividades.
- 36- Assinale a alternativa que corresponde à uma ação que dificulta a manutenção de um ambiente de trabalho harmônico e saudável.
- A. Disseminação sem necessidade de informações pessoais de colegas de trabalho.
 - B. Cumprimentar a todos sem distinção.
 - C. Ser cordial com os colegas de trabalho.
 - D. Atender com gentileza as solicitações internas.
 - E. Colaborar com as ações coletivas no exercício da função.



CENTRO UNIVERSITÁRIO BARRIGA VERDE

Entidade Mantenedora: Fundação Educacional Barriga Verde – FEBAVE

Utilidade Pública: Municipal Lei nº 543/77 – Estadual Lei nº 5.534 de 31-05-79 – Federal Proc. M.J. nº 74.99/77

Dec. nº. 89.685/84 – Reg. CNAS nº 23002-352/86-00 – CNPJ: 82.975.236/0001-08

Certificado de Entidade Beneficente de Assistência Social – CCEAS 045/2003

É permitido destacar essa folha do caderno de prova.

Esta folha contém espaço reservado para a anotação de suas respostas e pode ser levada para conferência.

CONCURSO PÚBLICO N° 001/2015

DESTINADO A PROVER VAGAS PARA O QUADRO PERMANENTE DA CAMARA MUNICIPAL DE VEREADORES DE URUSSANGA E FORMAÇÃO DE CADASTRO DE RESERVA

1	2	3	4	5	6	7	8	9	10	11	12	13	14	15	16	17	18	19	20

21	22	23	24	25	26	27	28	29	30	31	32	33	34	35	36	37	38	39	40



CENTRO UNIVERSITÁRIO BARRIGA VERDE

Entidade Mantenedora: Fundação Educacional Barriga Verde – FEBAVE

Utilidade Pública: Municipal Lei nº 543/77 – Estadual Lei nº 5.534 de 31-05-79 – Federal Proc. M.J. nº 74.99/77

Dec. nº. 89.685/84 – Reg. CNAS nº 23002-352/86-00 – CNPJ: 82.975.236/0001-08

Certificado de Entidade Beneficente de Assistência Social – CCEAS 045/2003